

PROBLEMI CON LE ADDIZIONI

1 Leggi e completa.

Nel vassoio ci sono **8** cioccolatini fondenti e **5** al latte.
Quanti cioccolatini ci sono in tutto?

Dati

..... cioccolatini fondenti 
..... cioccolatini al latte 



Domanda: Quanti cioccolatini ci sono in tutto?

Operazione: + =

Risposta: Ci sono cioccolatini in tutto.

In palestra ci sono **11** bambini con la maglia grigia.
Arrivano **6** bambini con la maglia bianca.
Quanti bambini ci sono in tutto?

Dati

..... bambini con maglia grigia 
..... bambini con maglia bianca 

Domanda: Quanti bambini ci sono in tutto?

Operazione: + =

Risposta: Ci sono bambini in tutto.


PROBLEMI CON LE SOTTRAZIONI

1 Leggi e completa.

Michela ha comprato **12** uova, ma **4** si sono rotte.
Quante uova restano a Michela?

Dati

..... uova



..... uova rotte



Domanda: Quante uova restano a Michela?

Operazione: - =

Risposta: A Michela restano uova.

Sul tavolo ci sono **11** mele.
4 hanno il verme e Laura le butta via.
Quante mele restano sul tavolo?

Dati

..... mele



..... mele con il verme



Domanda: Quante mele restano sul tavolo?

Operazione: - =

Risposta: Sul tavolo restano mele.

SCELGO L'OPERAZIONE GIUSTA

1 Leggi, scegli l'operazione giusta e completa.

Maria ha raccolto 15 rose; 5 hanno perso i petali.
Quante rose con i petali restano?

Dati

..... rose

..... rose senza petali



Domanda:

Operazione: ○ =

Risposta:

Sul vassoio ci sono 12 pasticcini alla fragola
e 3 al cioccolato. Quanti pasticcini ci sono in tutto?

Dati

..... pasticcini alla fragola

..... pasticcini al cioccolato



Domanda:

Operazione: ○ =

Risposta: